



Band 1 Kapitel 4 Die Dreiklänge


Übung 1

Wie heißen die folgenden Dreiklänge in Akkordsymbolschrift?

a. 





b. 





Übung 2

Die folgenden Dreiklänge sind im Violin- und im Baßschlüssel aufzuschreiben.

		G	Cm	Fm	B ^{b+}	E ^b	A ^b m	D ^{b+}
--	--	---	----	----	-----------------	----------------	------------------	-----------------

		G ^b	B ^o	E ^o	A	D ⁺	G ^o
--	--	----------------	----------------	----------------	---	----------------	----------------

Übung 3



Wie heißen die folgenden Umkehrungen von Dreiklängen in Akkordsymbolschrift?



a.

b.

Übung 4

Die folgenden Umkehrungen sind im Violin- und im Baßschlüssel aufzuschreiben.


							
		Cm/E ^b	G/D	D/F [#]	Am/E	E ⁺ /C	B ^o /F

							
		F [#] m/A	D ^b /F	A ^{b+} /C	E ^b /B ^b	B ^b m/F	


Übung 5

Die Stufendreiklänge der folgenden Tonarten sind im angegebenen Notenschlüssel aufzuschreiben:

a. A^b-Dur




b. D-Dur



c. F-Dur



d. A-Dur



A musical staff in treble clef with a treble clef symbol. The staff is empty, with the label 'A-Dur' written above it.

Übung 6


Welche Dreiklänge sind mit den folgenden Dreiklängen halbtoneverwandt?

a. Cm



A musical staff in treble clef with a treble clef symbol. The first measure contains a C minor triad (C3, Eb3, G3) with a flat sign on the Eb. The staff is divided into four measures by vertical bar lines.

b. E




A musical staff in treble clef with a treble clef symbol. The first measure contains an E major triad (E4, G#4, B4) with a sharp sign on the G#. The staff is divided into four measures by vertical bar lines.

c. G+



A musical staff in treble clef with a treble clef symbol. The first measure contains a G augmented triad (G4, B4, D#4) with a sharp sign on the D. The staff is divided into four measures by vertical bar lines.

d. D°



A musical staff in treble clef with a treble clef symbol. The first measure contains a D diminished triad (D4, F4, Ab4) with a flat sign on the Ab. The staff is divided into four measures by vertical bar lines.